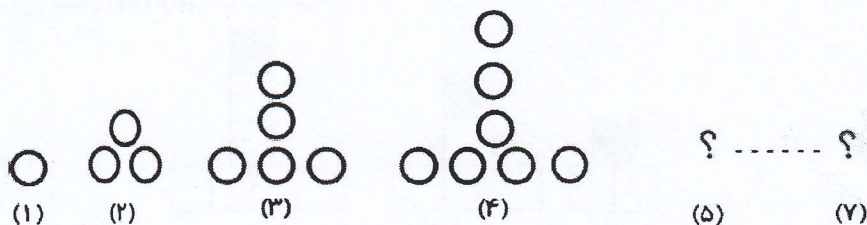


ریاضی چهارم_فصل اول_اعداد و الگوها

به الگوی زیر توجه کنید. شکل‌های پنجم و هفتم از چند دایره درست شده‌اند؟ الگوی شکل را توضیح دهید.



- با توجه به عدد ۳۵۰,۹۶۸,۲۲۴ به سؤالات زیر پاسخ دهید.

الف) عدد را به حروف بنویسید.

ب) کوچک‌ترین رقم چه ارزش مکانی دارد؟

ج) عدد ۸ چه ارزش مکانی دارد؟

د) طبقه‌ی میلیون عدد را بنویسید.

ه) کدام رقم بیش‌ترین ارزش مکانی را دارد؟

- عدد ۴۳۵۰۰۹ را در نظر بگیرید. این عدد چند رقمی است؟

الف) رقم یکان هزار آن چند است؟

ب) رقم صدگان آن چند است؟

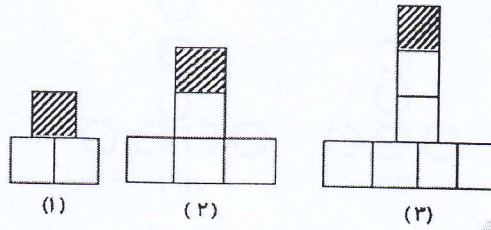
ج) عدد کم‌ترین ارزش مکانی را دارد.

د) اگر یکان و یکان هزار این عدد را به صفر تبدیل کنیم می‌شود، چه عددی به دست می‌آید؟ این عدد را به

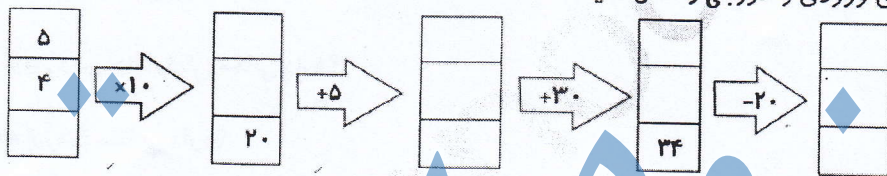
حروف بنویسید.



در الگوی زیر شکل نهم دارای چند \square است؟



ماشین های ورودی و خروجی را کامل کنید.



جروه سیپی